

Viorel George Dumitru

123

Învăță matematică!

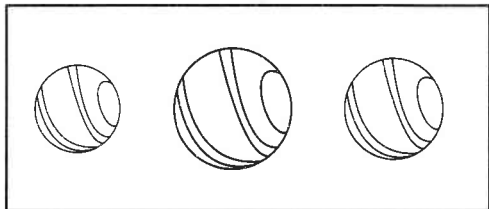
CUPRINS

Prefață	3
Test - Sunt pregătit(ă) pentru școală?.....	4
1. Elemente pregătitoare pentru înțelegerea unor concepte matematice.....	6
2. Numerele naturale de la 0 la 10.....	9
3. Adunarea și scăderea numerelor naturale de la 0 la 10	20
4. Numerele naturale de la 0 la 30.....	29
5. Adunarea și scăderea numerelor naturale de la 0 la 30, fără trecere peste ordin	32
6. Numerele naturale de la 0 la 100.....	36
7. Adunarea și scăderea numerelor naturale de la 0 la 100, fără trecere peste ordin	39
8. Figuri geometrice	44
9. Măsurări	49
10. Recapitulare finală	50

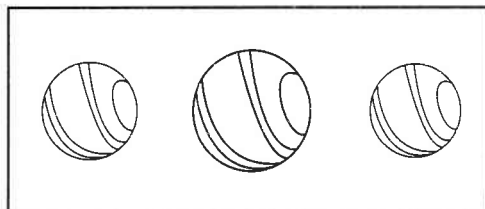
Sunt pregătit(ă) pentru școală?

1. Colorează desenul așezat astfel:


a) primul;



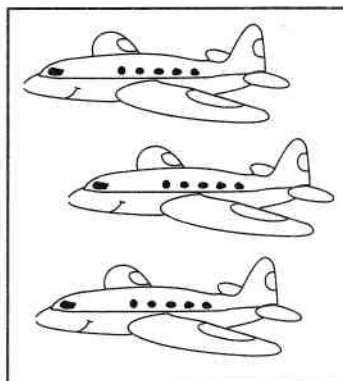
b) al doilea;



c) sus;



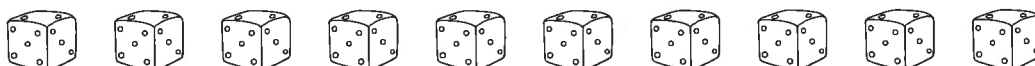
d) jos.



2. Colorează a treia căsuță.





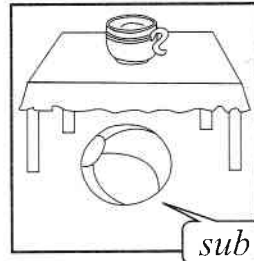


3. Încercuiește grupa cu cele mai multe elemente.



ELEMENTE PREGĂTITOARE PENTRU ÎNTELEGEREA UNOR CONCEPTE MATEMATICE

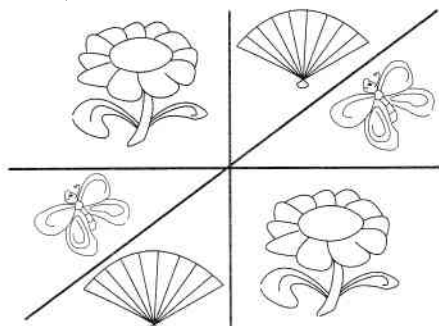
Poziția relativă a obiectelor în spațiu

1. Colorează numai obiectul așezat în locul indicat!




2. Încercuiește ce este desenat:

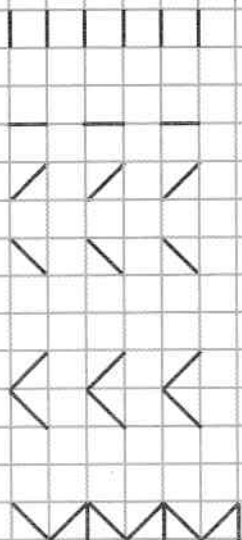
a) *sub* linia orizontală;



b) *la dreapta* liniei verticale.

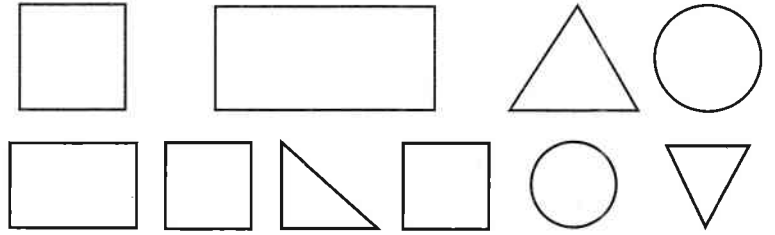


3. Completează după model!

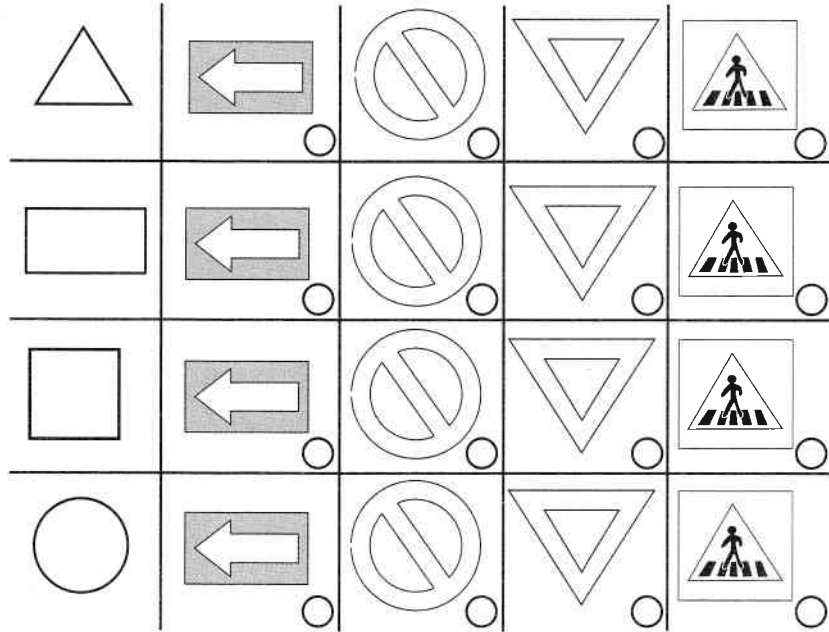


1. Colorează,
în interior,
figurile
geometrice
astfel:

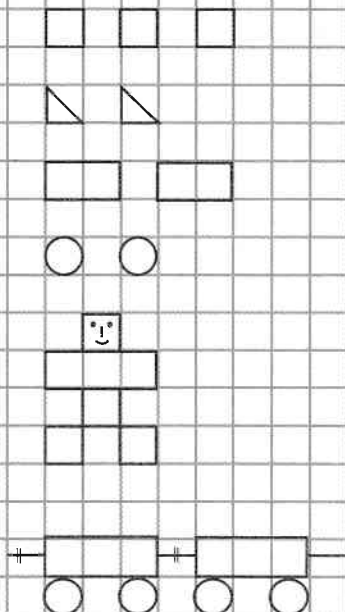
- △ galben ;
- albastru ;
- ▭ verde ;
- roșu .




2. Notează cu ☑ numai pentru obiectul cu formă asemănătoare.



3. Completează după model!



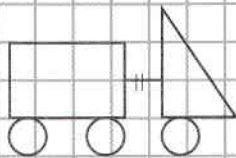
1. Separă, cu o linie, grupurile de obiecte (mulțimi).



2. Desenează, în dreptunghiurile din dreapta:

a) tot atâtea ;

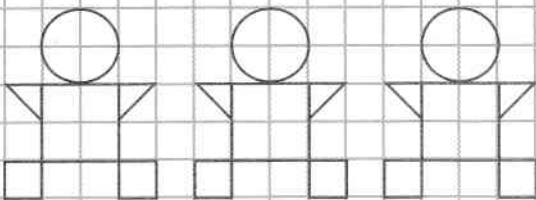
b) mai multe ;



a)

c) mai puține ;

b)



c)